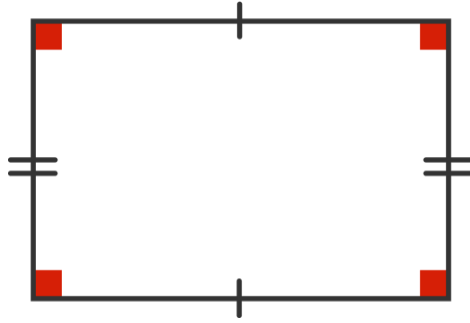
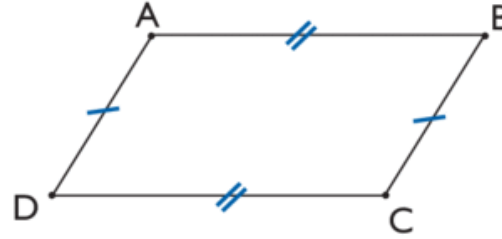


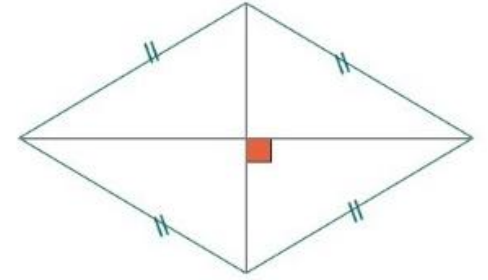
carré




rectangle



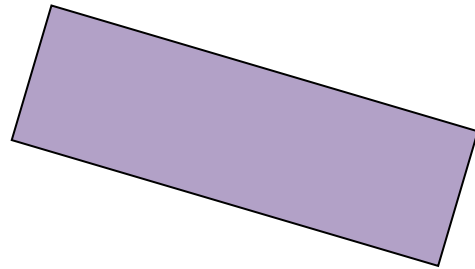
parallélogramme



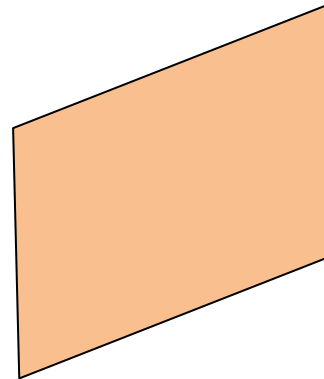
losange



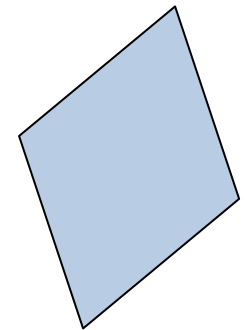
carré



rectangle



parallélogramme



losange

	Les questions à poser :	✓ ou ✕
1	Mes diagonales sont-elles de même longueur ?	
2	Mes diagonales se coupent-elles en leur milieu ?	
3	Mes diagonales sont-elles perpendiculaires ?	
4	Ai-je au moins un angle droit ?	
5	Ai-je deux côtés consécutifs de la même longueur ?	
6	Ai-je 4 côtés de même longueurs ?	
7	Ai-je 4 angles droits ?	

	Les questions à poser :	✓ ou ✕
1	Mes diagonales sont-elles de même longueur ?	
2	Mes diagonales se coupent-elles en leur milieu ?	
3	Mes diagonales sont-elles perpendiculaires ?	
4	Ai-je au moins un angle droit ?	
5	Ai-je deux côtés consécutifs de la même longueur ?	
6	Ai-je 4 côtés de même longueurs ?	
7	Ai-je 4 angles droits ?	

	Les questions à poser :	✓ ou ✕
1	Mes diagonales sont-elles de même longueur ?	
2	Mes diagonales se coupent-elles en leur milieu ?	
3	Mes diagonales sont-elles perpendiculaires ?	
4	Ai-je au moins un angle droit ?	
5	Ai-je deux côtés consécutifs de la même longueur ?	
6	Ai-je 4 côtés de même longueurs ?	
7	Ai-je 4 angles droits ?	