



43

Le sens de la soustraction (1)

Compétence : Découvrir le sens de la soustraction (le reste après retrait) et le signe -.
Calcul mental : Trouver la valeur d'une transformation.
Photofiches : Parcours A p. 44 - Parcours B p. 45

--	--	--	--	--

1 ~~lit~~ **Barre** les 2 fraises que Lola a mangées.



2+1 ~~lit~~ **Calcule** la soustraction.

fraises au total		fraises mangées		fraises restantes
7	-	2	=	<input type="text"/>

2 ~~lit~~ **Barre** les 3 billes que Noé a perdues.





~~lit~~ **Complète** la soustraction et 2+1 ~~lit~~ **calcule**-la.

billes au total		billes perdues		billes restantes
8	-	<input type="text"/>	=	<input type="text"/>



3 ~~lit~~ **Barre** les 5 vers que l'oiseau a mangés.



~~lit~~ **Complète** la soustraction et 2+1 ~~lit~~ **calcule**-la.

vers au total		vers mangés		vers restants
<input type="text"/>	-	<input type="text"/>	=	<input type="text"/>

Litchi recule de 4 cases.

~~lit~~ **Colorie** sa case d'arrivée.

1	2	3	4	5	6	7	8	9	10	11	12	13	14	15
---	---	---	---	---	---	---	---	---	----	----	----	----	----	----

