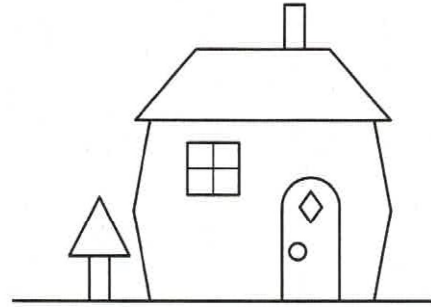




## RECONNAITRE DES QUADRILATÈRES

① **Identifie** les quadrilatères et **colorie**-les.

Il y a  quadrilatères.



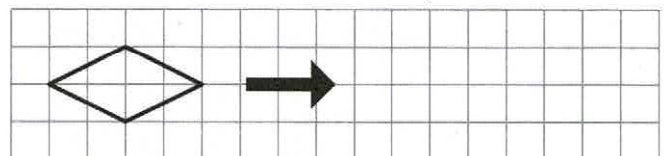
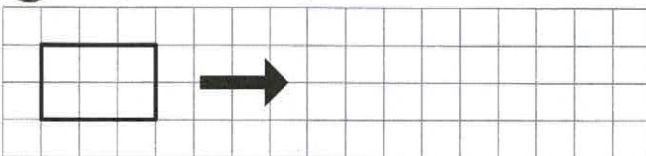
## IDENTIFIER LES PROPRIÉTÉS D'UN QUADRILATÈRE

② **Coche** les cases en fonction des propriétés de chaque quadrilatère.

Quatre angles droits				
Côtés opposés égaux				
Tous les côtés égaux				
Diagonales de même longueur				
Diagonales perpendiculaires				

## NOMMER DES QUADRILATÈRES PARTICULIERS

③ **Reproduis** les figures en doublant leurs dimensions et **donne** leur nom en justifiant.



Il s'agit d'un  car

Il s'agit d'un  car

④ **Colorie** les carrés en rouge, les rectangles en bleu, les losanges en jaune et les quadrilatères quelconques en vert.

