

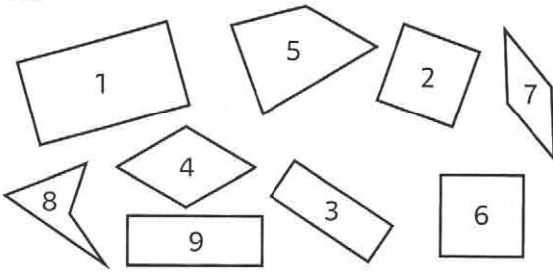
# ÉVALUATION 1

Prénom .....

Date .....

## RECONNAITRE DES QUADRILATÈRES

1 Complète le tableau avec le numéro des formes.



Rectangles	
Carrés	
Losanges	
Quadrilatères quelconques	

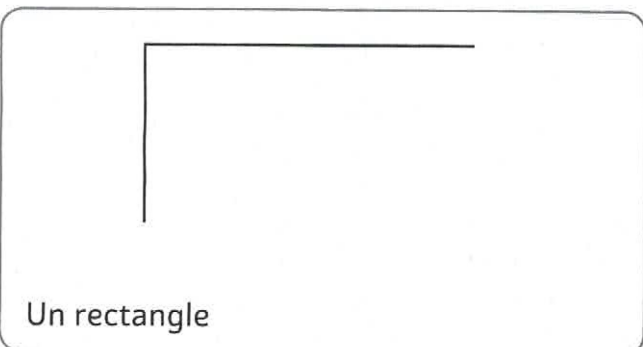

## IDENTIFIER LES PROPRIÉTÉS D'UN QUADRILATÈRE

2 Place des croix dans le tableau pour identifier les propriétés de ces quadrilatères puis **donne** le nom de chacun.


Côtés opposés égaux			
Quatre côtés égaux			
Côtés opposés parallèles			
Quatre angles droits			
Nom du quadrilatère			

## TRACER DES QUADRILATÈRES PARTICULIERS

3 Complète ces figures.



4 Trace un carré ABCD de 2,5 cm de côté.



5 Trace un rectangle EFGH de 2 cm de largeur et 6 cm de longueur.

