







ESTIMER LES UNITÉS DE CONTENANCES

1 Relie les images à l'unité dans laquelle on mesure leur contenance.



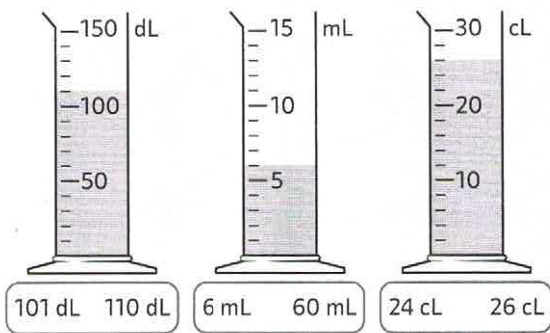
hL

L

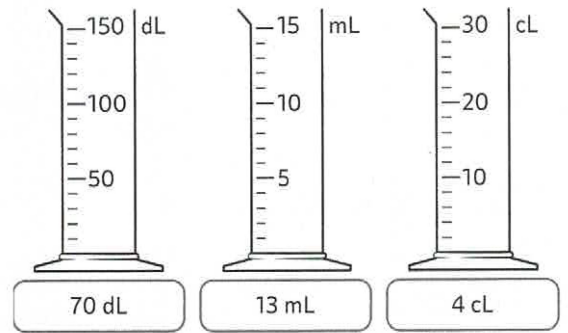
cL

MESURER DES CONTENANCES

2 Entoure la contenance du liquide présent dans chaque récipient.



3 Colorie la contenance du liquide présent dans chaque récipient.



4 Trouve la contenance des différents objets ci-dessous dans l'unité de ton choix sachant que = 10 cL.

= 3 →

= 10 →

= 8 →

= 3 →

= 3 →

CONVERTIR DES CONTENANCES

5 Colorie les mesures équivalentes à 1 litre.

