


1 Écris la moitié de chacun de ces nombres.

La moitié de 6, c'est : _____

La moitié de 8, c'est : _____

La moitié de 10, c'est : _____

Pour trouver
les moitiés,
tu dois
connaître
les doubles.




2 Écris la moitié de chacun de ces nombres.


Nombres	12	2	14	18	20	16	4
Moitiés							

3 Relie chaque nombre à sa moitié.

40	10	60	80	30	8	20
30	20	5	15	10	40	4



1 Effectue ces soustractions.



$$50 - 10 = \underline{\quad}$$

$$70 - 20 = \underline{\quad}$$

$$10 - 10 = \underline{\quad}$$

$$50 - 30 = \underline{\quad}$$

$$30 - 20 = \underline{\quad}$$

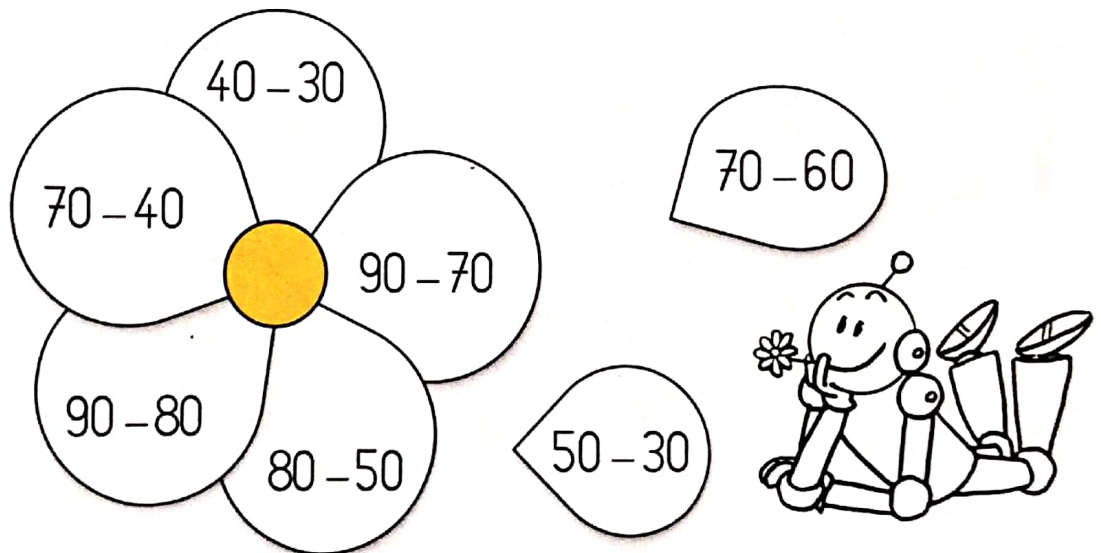
$$80 - 10 = \underline{\quad}$$

2 Colorie selon le code couleur.

10 jaune

20 vert

30 rose



3 Calcule.

$$40 - 20 = \underline{\quad}$$

$$70 - 40 = \underline{\quad}$$

$$60 - 20 = \underline{\quad}$$

$$80 - 50 = \underline{\quad}$$

$$50 - 40 = \underline{\quad}$$

$$70 - 60 = \underline{\quad}$$

$$30 - 30 = \underline{\quad}$$

$$90 - 90 = \underline{\quad}$$

$$90 - 50 = \underline{\quad}$$