

1 Calcule les différences.

$765 - 65 = \underline{\hspace{2cm}}$

$765 - 760 = \underline{\hspace{2cm}}$

$765 - 700 = \underline{\hspace{2cm}}$

$765 - 5 = \underline{\hspace{2cm}}$

$765 - 60 = \underline{\hspace{2cm}}$

$765 - 705 = \underline{\hspace{2cm}}$

On enlève
des centaines, des dizaines
ou des unités ?



2 Calcule les différences.

$864 - 800 = \underline{\hspace{2cm}}$


$963 - 63 = \underline{\hspace{2cm}}$

$752 - 52 = \underline{\hspace{2cm}}$


$284 - 80 = \underline{\hspace{2cm}}$

$395 - 305 = \underline{\hspace{2cm}}$

$379 - 9 = \underline{\hspace{2cm}}$



3 Effectue les opérations avec ta calculatrice. Colorie la bonne réponse.



$643 - 369$

374 376 274

$821 - 682$

139 249 241

$975 - 678$

917 297 972

$708 - 259$

557 559 449

1 Calcule les différences.

$$800 - 100 = \underline{\quad}$$

$$780 - 200 = \underline{\quad}$$

$$950 - 10 = \underline{\quad}$$

$$675 - 30 = \underline{\quad}$$

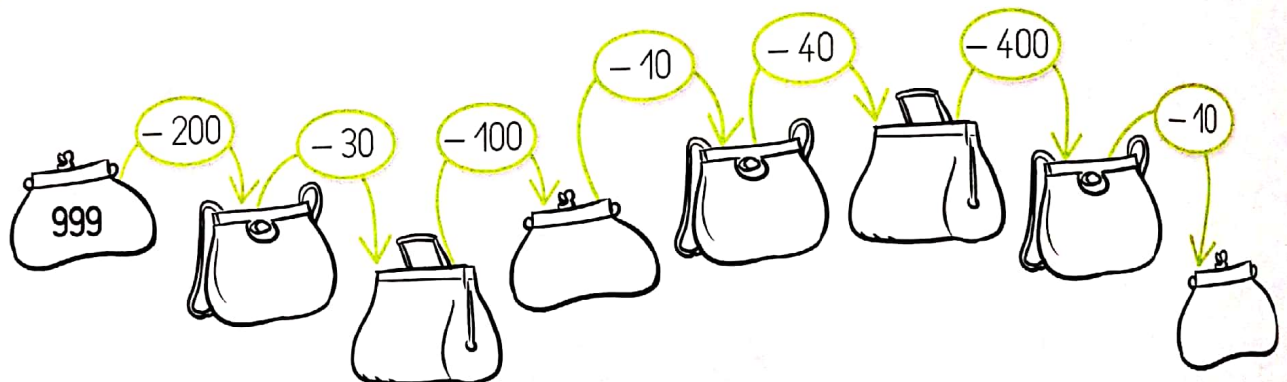
$$653 - 200 = \underline{\quad}$$

$$320 - 20 = \underline{\quad}$$

On enlève
des centaines
ou des dizaines ?



2 Calcule et trouve le nombre mystère !



3 Complète les égalités.



$$680 - \underline{\quad} = 580$$

$$972 - \underline{\quad} = 472$$

$$934 - \underline{\quad} = 914$$

$$763 - \underline{\quad} = 163$$

$$48 - \underline{\quad} = 18$$

$$897 - \underline{\quad} = 837$$