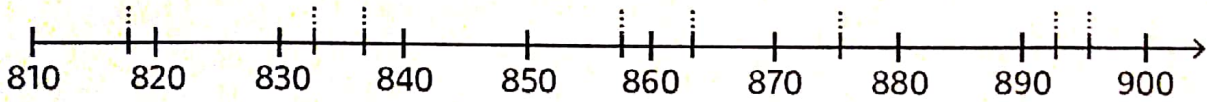
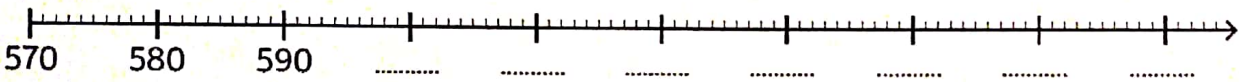


CE2 : Numération - Placer des nombres entiers sur une droite graduée (2)

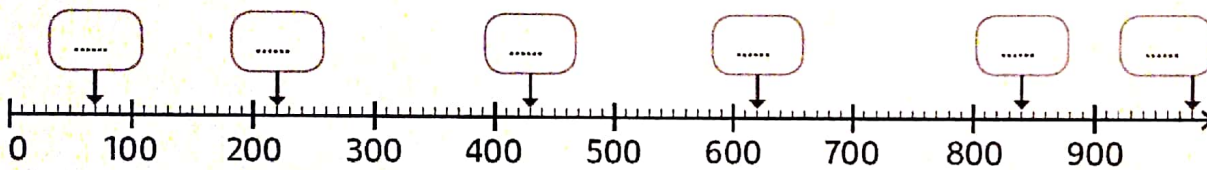
① **Relie** chaque nombre à sa position sur la droite graduée.



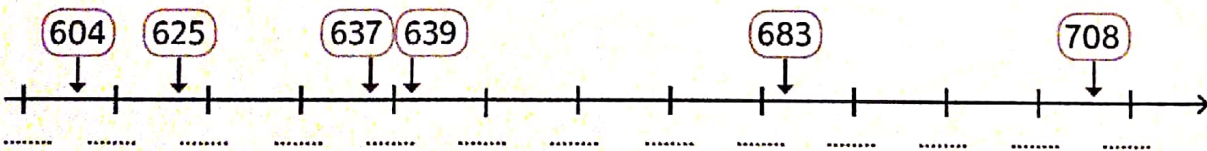
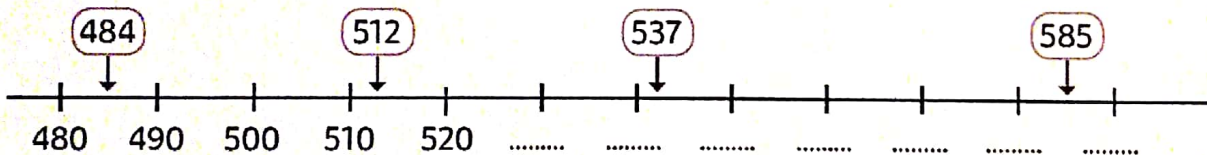
② **Complète** la droite graduée puis **place** les nombres suivants.



③ **Écris** les nombres indiqués par une flèche.



④ **Colorie** en vert les étiquettes qui sont bien placées et en rouge celles qui sont mal placées. **Complète** les pointillés pour t'aider.



⑤ **Écris** les graduations de ces droites graduées en observant les nombres placés.

